

Outil d'Évaluation relatif aux Socles de compétences  
Premier degré de l'enseignement secondaire

# GÉOGRAPHIE

## DINANT, FILLE DE MEUSE



DOSSIER DE L'ÉLÈVE



## PORTEFEUILLE DE DOCUMENTATION

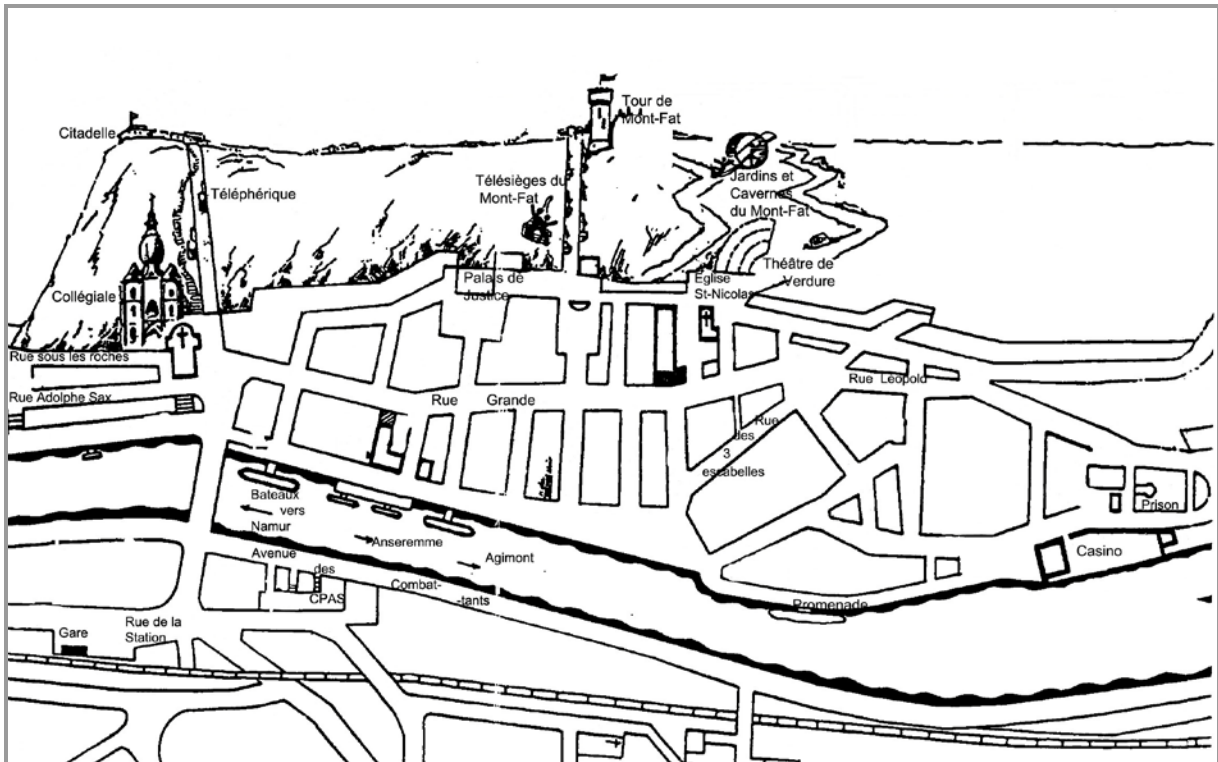
### Document 1 : Croquis-plan du site de la ville de Dinant



*Source* : d'après le plan « Bouvignes, Dinant, Anseremme » de l'office du tourisme de la ville de Dinant et avec son aimable autorisation.

- |                          |   |   |
|--------------------------|---|---|
| 3. Citadelle             | 8. Rue Grande                             | 12. Ancien couvent de Bethléem –<br>Hôtel |
| 4. Collégiale Notre-Dame | 10. Saint-Antoine (CPAS)                  | 13. grotte « La merveilleuse »            |
| 6. Téléphérique          | 11. Centre culturel régional de<br>Dinant | 14. casino                                |
|                          |   | 22. Hôtel de ville                        |

## Document 2 : Croquis-plan de la ville de Dinant



Source : d'après un document de l'office du tourisme de Dinant

## Document 3 : Photos de la ville de Dinant

Source : Photos Cl. Van Overstraeten (2008)

### 3.1. Ville de Dinant vue depuis le collège N.-D. de Bellevue



3.2. Rue Grande



3.3. Rue des 3 escabelles




### 3.4. Rue sous les roches



Plaque commémorative rappelant les éboulements du 16 octobre 1995 à 13heures45'



### 3.5. Colonne de la Collégiale avec marque des inondations du 20 décembre 1728




Inscription qui signifie : « La veille de la fête de l'apôtre Saint-Thomas, les eaux sont montées jusqu'ici » et indique : « le 20 décembre 1728 »

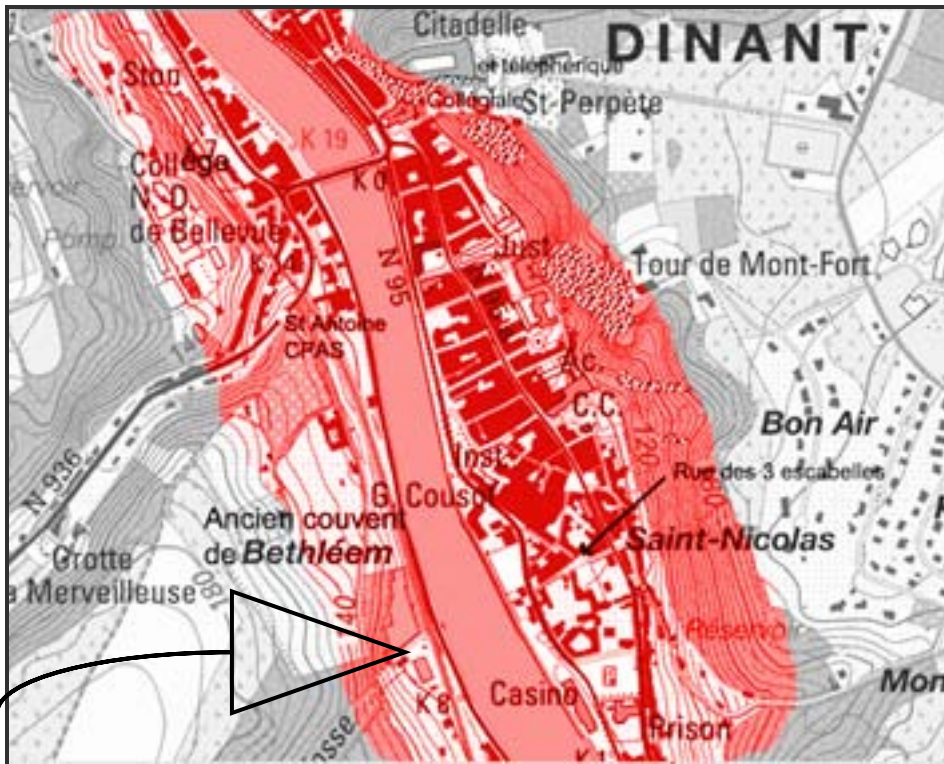
3.6. Centre culturel régional de Dinant



3.7. Ancien couvent «Bethléem» (reconversion hôtelière en cours) et ancien hospice «Saint-Antoine» qui héberge le CPAS



**Document 4 : « Dinant sous eau » ...**



... Dinant, celle qu'on appelle parfois la fille de Meuse méritait bien son surnom aujourd'hui. L'eau n'a cessé de monter en cours de journée. Alors les Dinantais se sont préparés à être copieusement inondés une fois encore. Un Dinantais s'exprime : « Ca fait quand même trois fois en sept ans, c'est démoralisant. Perte d'argent et puis, aucune assurance (ne) rembourse. ... » En descendant la Meuse pour arriver au petit village de Houx, pas moyen de passer. Depuis la nuit dernière, il est accessible uniquement en camion ou alors en barque ...

Sources : « Cartographie de base - © Institut géographique national – Bruxelles » - Zone à risque d'après les informations du Ministère de la Région Wallonne – Texte d'après un reportage RTBF du 24.02.2008 – [http://old.rtbf.be/rtbf\\_2000](http://old.rtbf.be/rtbf_2000) - « Dinant sous eau » - 03.01.2003

**Les zones décrétées « à risques » ne permettent plus l'obtention d'un permis de bâtir.**

**Document 5 :**

**5.1. Une tradition commerciale bien établie**

Dinant a une tradition commerciale bien établie. Les chiffres montrent que plus d'un quart des emplois font partie de ce secteur.

Le système commercial de la commune de Dinant compte plus de 500 implantations commerciales. Il se concentre particulièrement sur deux zones :

- le centre-ville où sont recensés un peu moins de 300 commerces ;
- la rive droite en accueille 250.

Source : d'après des informations extraites du plan de mobilité de la commune de Dinant et avec son aimable autorisation.

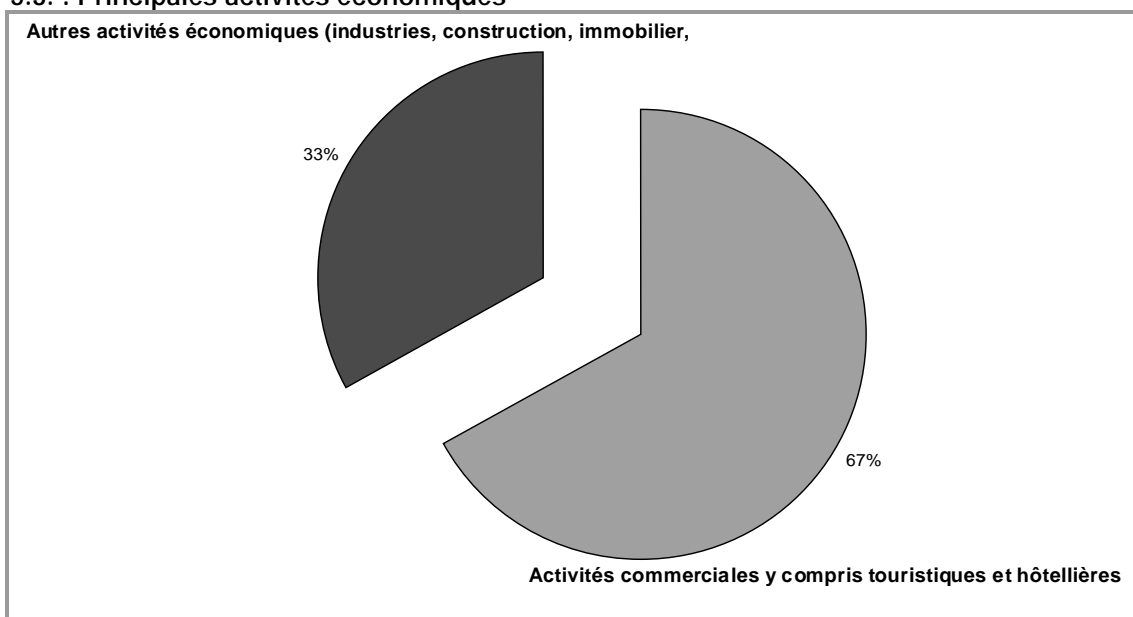
**5.2. : Les attractions de la Maison du Tourisme de Dinant**

Abbaye de Maredsous	Draisnies de la Mignée (véhicules à pédales sur rails)
Bateaux « Copère »	Grotte de Dinant « La Merveilleuse »
Bateaux « Bayard »	Grottes du Pont d'Arcole
Château-Ferme de Falaën	Jardins d'Annevoie
Compagnie des bateaux de Dinant	Musée des Crêtes Sauvages
Descente de la Lesse : « Kayaks Ansiaux »	Musée du Bois et Galerie à la Fontaine
Descente de la Lesse : « Kayaks Libert »	Parc de Furfooz
Descente de la Lesse : « Kayaks bleus »	Ruines de Montaigne

Source : extrait du plan de mobilité de la commune de Dinant et avec son aimable autorisation



### 5.3. : Principales activités économiques



Source : d'après des données chiffrées de SPF Finances

### 5.4. : La fonction touristique de la ville de Dinant

Dinant est une destination touristique très prisée. Son site remarquable attire chaque année des milliers de personnes de toutes nationalités (Belges, Hollandais, ... Japonais).

Fréquentation de la maison du Tourisme de Dinant		+ de 20 000 personnes	
Nuitées	en camping	166 000 personnes	269 600 personnes
	en hôtel	93 000 personnes	
	en gîtes ruraux	10 600 personnes	
	en seconde résidence	137 000 personnes	
Activités nautiques		297 000 personnes	
Fréquence de la navigation		1336 bateaux touristiques 6414 yachts	
Résidences secondaires		La commune en recense quelques 350	

Source : d'après des informations extraites du plan de mobilité de la commune de Dinant et avec son aimable autorisation.

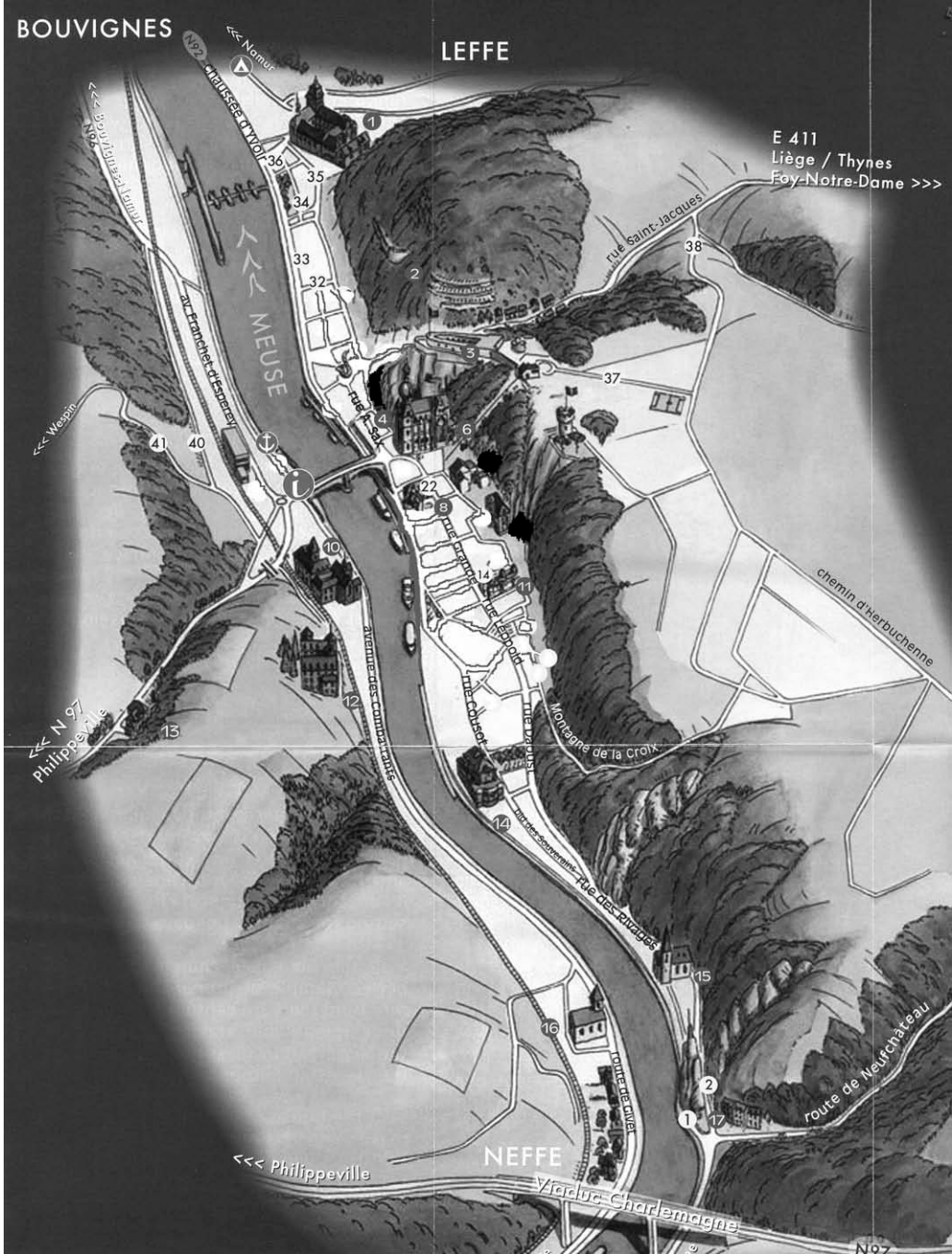
## PARTIE 2

1. Complète le tableau ci-dessous en citant les éléments du paysage que tu repères à l'analyse des photos.

N° de photo	Éléments du paysage repérés
3.1.	
3.2.	
3.3.	
3.4.	
3.6.	
3.7.	

2. Sur le plan muet de la Ville de Dinant, localise les éléments du paysage que tu as repérés à l'analyse des photos 3.1., 3.2., 3.3., 3.4., 3.6., 3.8. Pour ce faire, relie par une flèche chacun de ces éléments avec sa localisation sur le plan.

Éléments  
du paysage  
repérés à  
l'analyse  
des photos



Source : d'après un plan de l'office du tourisme de Dinant

3. Le milieu naturel du site de Dinant, comme tout milieu naturel, dispose d'atouts et de contraintes.  
 Pour mettre ces atouts et ces contraintes en évidence, complète le tableau ci-dessous.  
 N'oublie pas de noter le numéro du document sur lequel tu t'appuies pour chacune de tes réponses.

Eléments du milieu naturel qui sont des <u>ATOUPS</u>	N° doc(s)	Comment la ville de Dinant exploite-t-elle ces atouts ?	N° doc(s)
Eléments du milieu naturel qui sont des <u>CONTRAINTES</u>	N° doc(s)	Comment la ville de Dinant a-t-elle dépassé ces contraintes ?	N° doc(s)